

दि:

सही मिलान करें

33



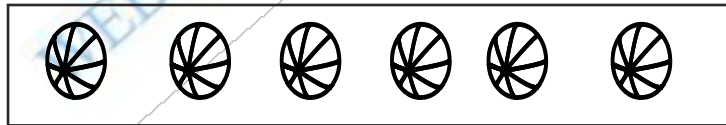
6




4




5



8




7



9

संख्याओं को सही क्रम में लिखें



**शिक्षण-संकेत :- विषयसमझ :** संख्या 1 से 9 तक का पुनरावर्तन -दिवस 23 के अनुसार कराएँ। नोट : पुनरावर्तन में हर एक चरण में सबसे पहले सवाल बच्चों से पूछें। **समूहकार्य :** क्रियाकलाप 10 देखें।

दि: घेरे में > या < का निशान लगाकर अन्तर बताएँ।

34

अन्तर \_\_\_\_\_

अन्तर \_\_\_\_\_

अन्तर \_\_\_\_\_

अन्तर \_\_\_\_\_

अन्तर \_\_\_\_\_

घेरे में > या < का निशान लगाकर अन्तर बताएँ।

9 ○ 7

अन्तर \_\_\_\_\_

4 ○ 8

अन्तर \_\_\_\_\_

1 ○ 5

अन्तर \_\_\_\_\_

6 ○ 3

अन्तर \_\_\_\_\_

2 ○ 5

अन्तर \_\_\_\_\_

8 ○ 6

अन्तर \_\_\_\_\_

**शिक्षण-संकेत :- विषयसमझ :** छोटी बड़ी संख्याएँ तथा अन्तर (वस्तु द्वारा) -दिवस 17 के अनुसार कराएँ  
(उदा : 6 तथा 9 में)। **समूहकार्य :** क्रियाकलाप 11 देखें।

दि:

35

गिनकर संख्या लिखें

○	○	○	○
○	○	○	○
○	○	○	○
□	□	□	□
सबसे छोटी संख्या			○
सबसे बड़ी संख्या			□

□	□	□	□
□	□	□	□
□	□	□	□
□	□	□	□
सबसे छोटी संख्या			○
सबसे बड़ी संख्या			□

□	□	□	□
□	□	□	□
□	□	□	□
□	□	□	□
□	□	□	□
सबसे छोटी संख्या			○
सबसे बड़ी संख्या			□

○	○	○	○
○	○	○	○
○	○	○	○
○	○	○	○
○	○	○	○
सबसे छोटी संख्या			○
सबसे बड़ी संख्या			□

सबसे छोटी संख्या ○ में तथा सबसे बड़ी संख्या □ में लिखें

6	2	7	5
सबसे छोटी संख्या			○
सबसे बड़ी संख्या			□

4	2	9	1
सबसे छोटी संख्या			○
सबसे बड़ी संख्या			□

8	5	4	3
सबसे छोटी संख्या			○
सबसे बड़ी संख्या			□

**शिक्षण-संकेत :- विषयसमझ :** सबसे छोटी-सबसे बड़ी संख्याएँ (वस्तु द्वारा) - दिवस 19 के अनुसार कराएँ  
(उदा : 6, 8, 3, 7 में)। **समूहकार्य :** क्रियाकलाप 12 देखें

दि: संख्याओं को बढ़ते क्रम में लिखें

36

9	7	4
बढ़ता क्रम	→	<input type="text"/>

8	6	5
बढ़ता क्रम	→	<input type="text"/>

7	1	4
बढ़ता क्रम	→	<input type="text"/>

8	6	2
बढ़ता क्रम	→	<input type="text"/>

5	3	8
बढ़ता क्रम	→	<input type="text"/>

6	9	4
बढ़ता क्रम	→	<input type="text"/>

सबसे छोटी संख्या ○ में तथा सबसे बड़ी संख्या □ में लिखें

5	3	6	4
सबसे छोटी संख्या	○		
सबसे बड़ी संख्या	□		

4	8	7	2
सबसे छोटी संख्या	○		
सबसे बड़ी संख्या	□		

ठीक पहले की संख्या लिखें

<input type="text"/>	3
----------------------	---

<input type="text"/>	9
----------------------	---

ठीक बाद की संख्या लिखें

6	<input type="text"/>
---	----------------------

5	<input type="text"/>
---	----------------------

बीच की संख्या लिखें

1	<input type="text"/>	3
---	----------------------	---

7	<input type="text"/>	9
---	----------------------	---

**शिक्षण संकेत :- विषयसमझ :** बढ़ता क्रम (बोर्ड पर) - दिवस 29 के अनुसार कराएँ (उदा : 5, 8, 3 में)।**समूहकार्य :** क्रियाकलाप 14 देखें।